

**ΔΕΥΤΕΡΑ, 18/05/20**

**Βιβλίο  
Μαθηματικών  
σελ: 41,42**


**ΤΡΙΤΗ, 19/05/20**

**Φυλλάδιο με  
κλάσματα (ζωάκια)**

Να συμπληρώσεις όπως το παράδειγμα.

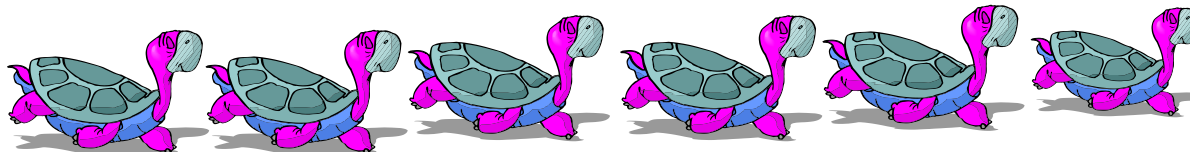
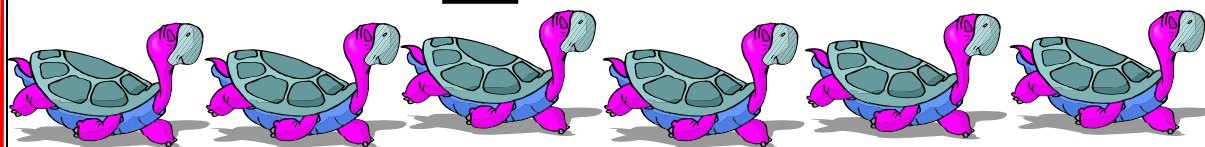
Το  $\frac{1}{4}$  του 8 είναι

$$8:4 = 2$$



Γιατί τα **8 άλογα** πρέπει να τα **μοιράσω σε 4 ίσες ομάδες** και να πάρω τη **1 ομάδα**.

Το  $\frac{1}{4}$  του 12 είναι



Γιατί τις **12 χελώνες** πρέπει να τις \_\_\_\_\_


Το  $\frac{1}{3}$  του 6 είναι το



Γιατί τους 6 γάτους πρέπει να \_\_\_\_\_


Να συμπληρώσεις όπως το παράδειγμα.

Το  $\frac{1}{2}$  του 8 είναι




Γιατί τα 8 -----  
-----

Το  $\frac{1}{5}$  του 10 είναι το



Γιατί τα 10 -----  
-----

Το  $\frac{1}{4}$  του 16 είναι



Γιατί οι 16 -----  
-----

**ΤΕΤΑΡΤΗ, 20/05/20**

Βιβλίο Μαθηματικών σελ: 43,  
58, 59